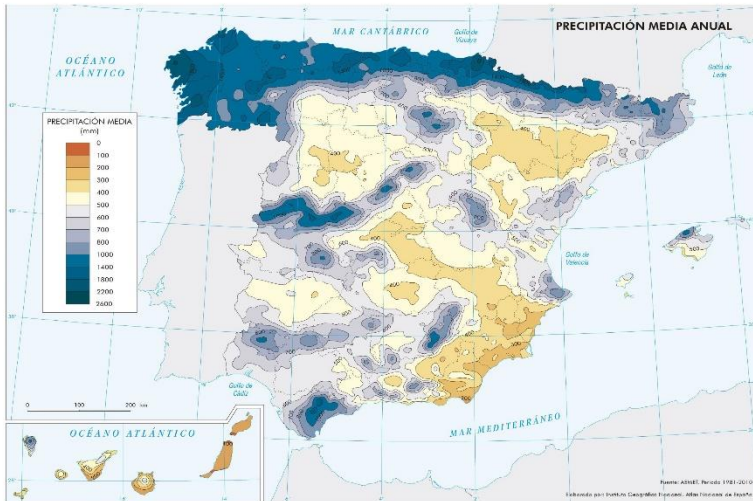


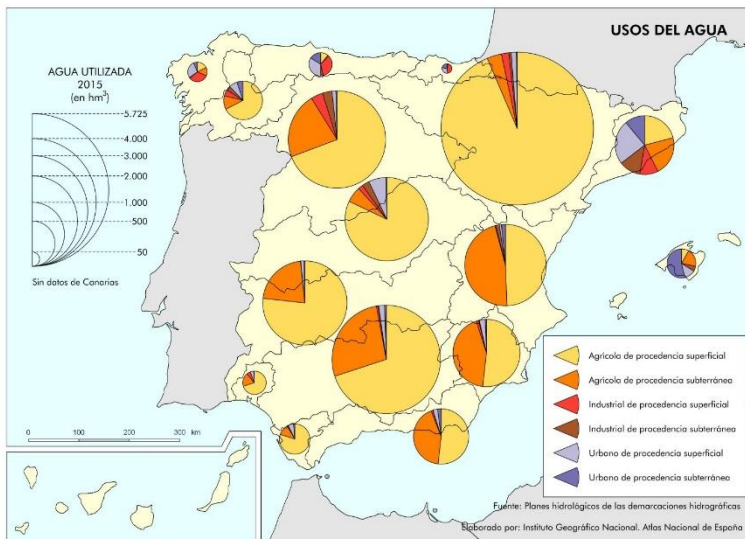
Instrucciones: el estudiante deberá contestar a las preguntas haciendo la elección que se detalla en cada una de ellas. Como criterio general de corrección para el conjunto de la prueba se valorará la presentación, la ortografía y la redacción.

I.- EJERCICIO PRÁCTICO. Elegir **UNO** entre los siguientes tres ejercicios. Puntuación máxima: **2.5** puntos.



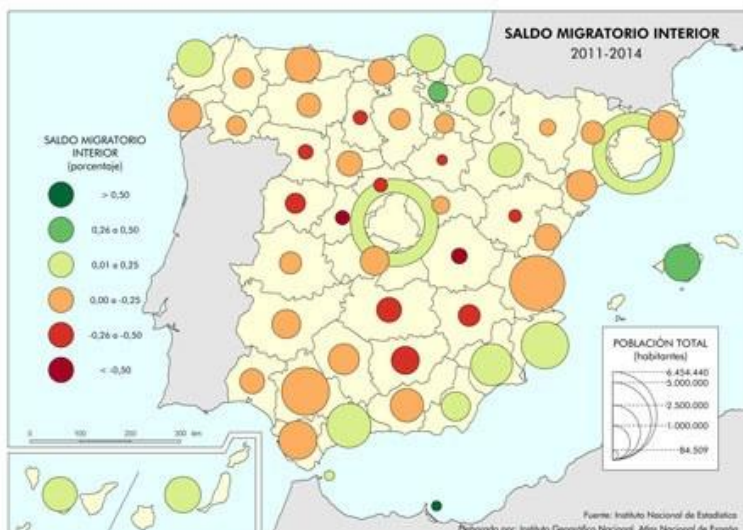
I.A.- Analizar el siguiente mapa:

- 1.- Describir el fenómeno que cartografía.
- 2.- Explicar las diferencias de colores en función de los factores que generan más o menos precipitaciones.
- 3.- Establecer consecuencias naturales, económicas y sociales derivadas de este fenómeno.



I.B.- Comentar el mapa de acuerdo con el siguiente guion:

- 1.- Describir el fenómeno que cartografía.
- 2.- Explicar las diferencias que existen entre las demarcaciones, tanto en valor absoluto como en la participación de cada tipo de uso.
- 3.- Emitir hipótesis sobre las consecuencias económicas y sociales del fenómeno analizado.



I.C.- Comentar el mapa de acuerdo con el siguiente guion:

- 1.- Describir el fenómeno que estudia.
- 2.- Explicar las variaciones territoriales del fenómeno, tanto en cifras absolutas como porcentuales.
- 3.- Emitir hipótesis sobre las consecuencias económicas y sociales del fenómeno analizado.

